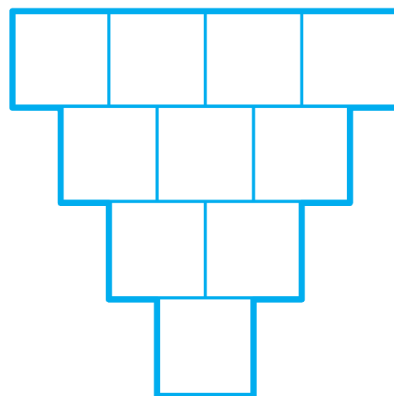

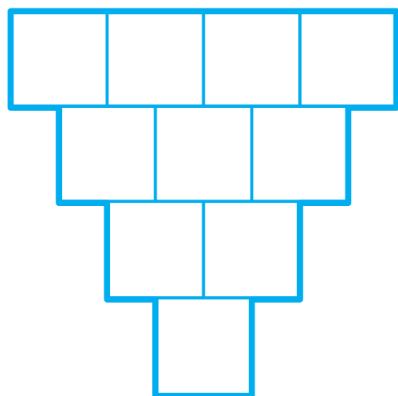
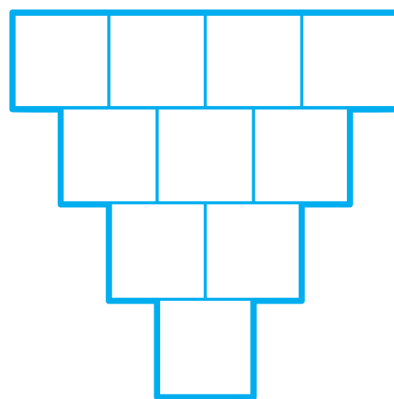

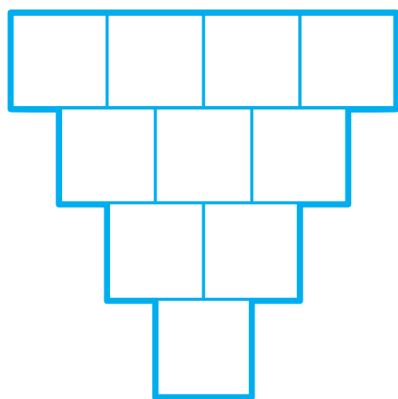
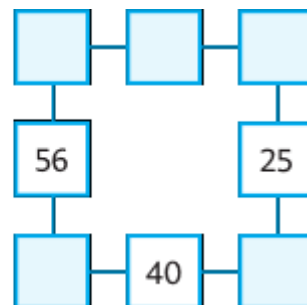
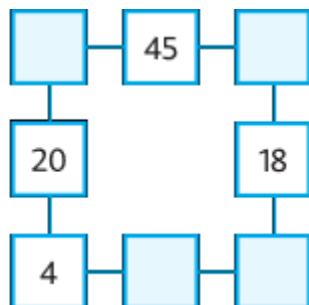
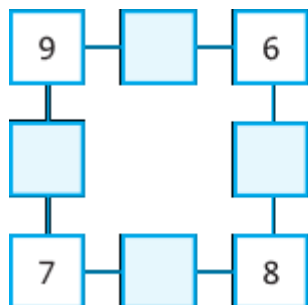


1. Napiš do čtverečků čísla tak, aby platilo, že součet dvou sousedních čísel se rovná číslu ve čtverečku pod nimi. Zkus najít více řešení.



2. Vyřeš násobilkové čtverce (součin čísel v rozích je ve čtverečku mezi nimi).



3. Oblékáme panenku. Kolika různými způsoby lze panenku obléknout, když máme:

a) 2 svetříky (hnědý a zelený) a 2 různé sukýnky (modrou a červenou).



b) 2 svetříky (hnědý a zelený) a 3 různé sukýnky (modrou, červenou a oranžovou).

